





- **Zähle die roten und blauen Punkte!**
- **Schreibe die Zahlen in die Kästchen und rechne die Aufgabe aus!**
- **Schreibe die Umkehraufgabe auf und rechnen sie aus!**

Beispiel




$$\boxed{5} + \boxed{4} = \boxed{9}$$

$$\boxed{9} - \boxed{4} = \boxed{5}$$



$$\boxed{} + \boxed{} = \boxed{}$$

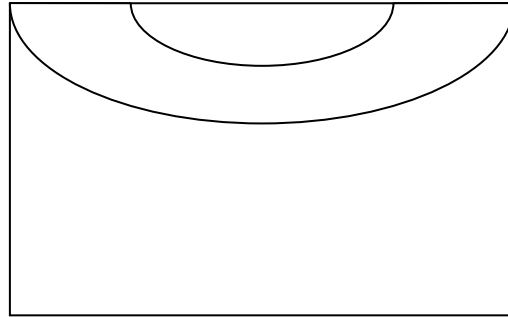
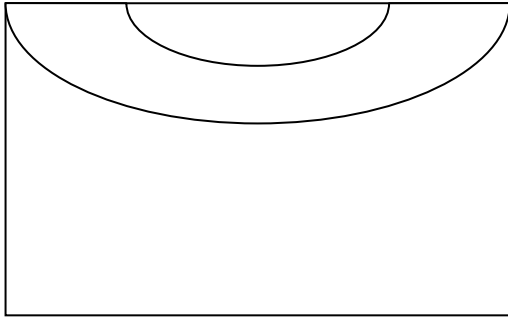
$$\boxed{} + \boxed{} = \boxed{}$$



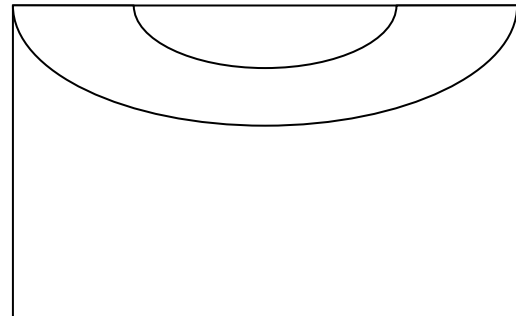
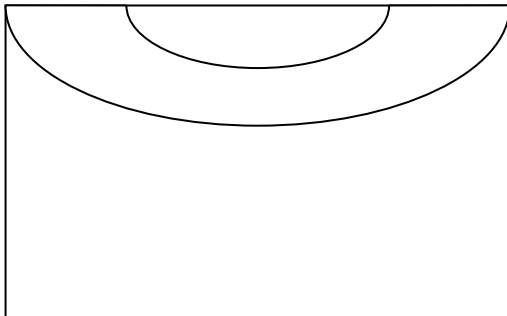
$$\boxed{} + \boxed{} = \boxed{}$$

$$\boxed{} + \boxed{} = \boxed{}$$

Gib 9 Euro in jede Geldbörse!



Gib 11 Euro in jede Geldbörse!



Du hast 5,50 Euro gespart und kaufst eine Tafel Schokolade und ein Eis.

Wie viel Geld hast du noch?



1 €



0,75 €



2,25 €



0,35 €



0,50 €



0,70 €


=

Du bekommst von deiner Oma 5 € Davon willst du dir einen Ring und eine Kette kaufen.

Reicht dein Geld?



4 €



1,50 €



3,75 €

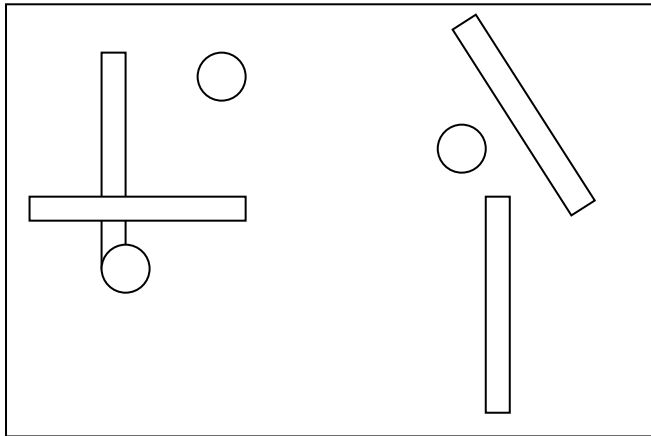


2,50 €

=

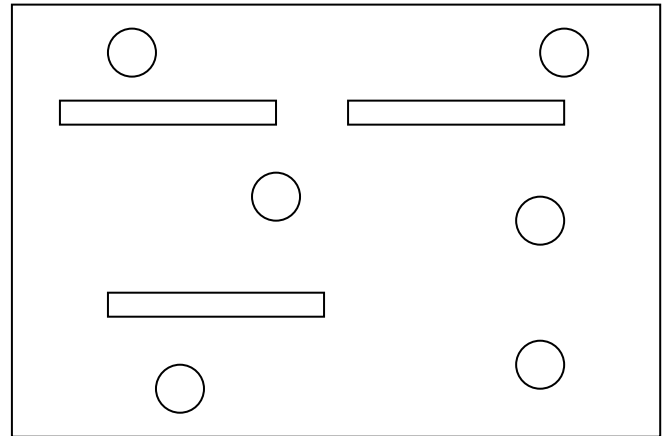
Wie viele Zehner und Einer zählst du?

(Zehner = Striche; Einer = Punkte)



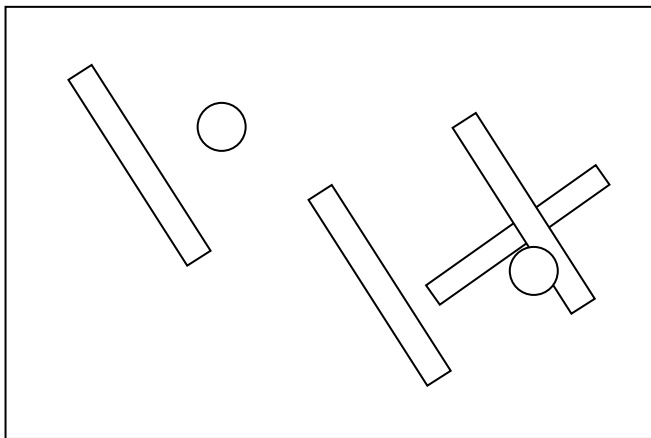
Z

E



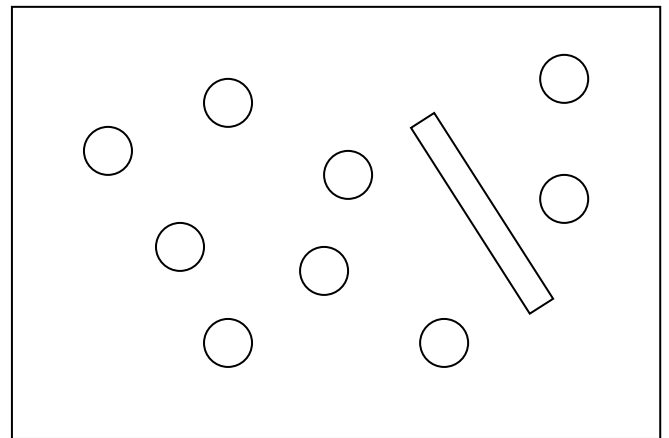
Z

E



Z

E



Z

E