





ZUORDNUNG VON  
ZAHLEN ZU MENGEN

7



6





8



2

10



5

3



1



4



Kreise die gleichen  
Tiere ein und ordne  
sie der  
entsprechenden Zahl  
zu: