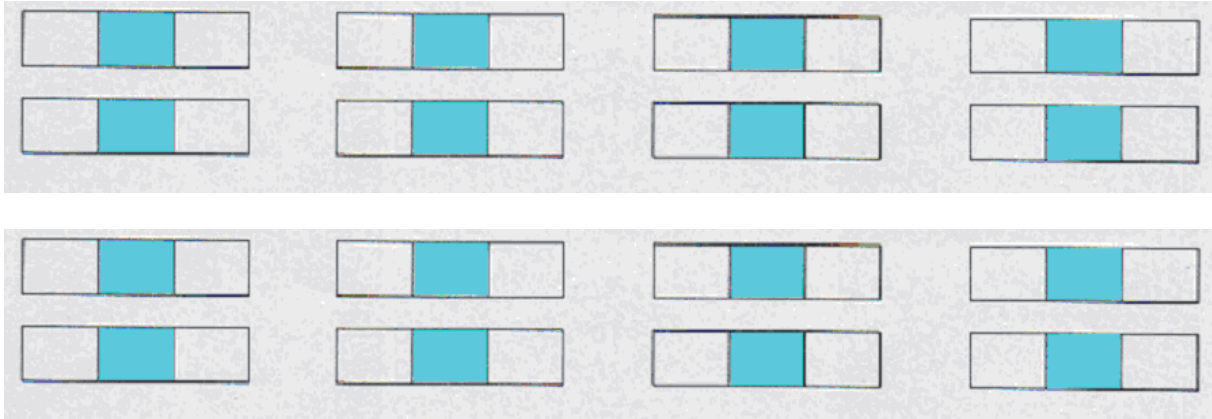








1. Bestimme die Nachbarzahlen, welche ich dir diktiere!







2. Symbole gleich Aufgabe!



Hier sollst du die jeweiligen Rechnungen auf die Linien schreiben und im Anschluss ausrechnen.

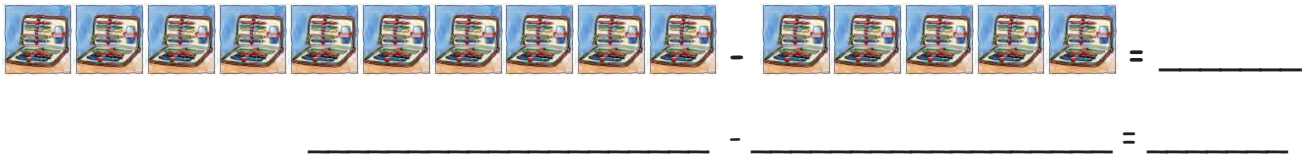


 + \_\_\_\_\_ = \_\_\_\_\_  
 \_\_\_\_\_ + \_\_\_\_\_ = \_\_\_\_\_



 + \_\_\_\_\_ = \_\_\_\_\_  
 \_\_\_\_\_ + \_\_\_\_\_ = \_\_\_\_\_



 + \_\_\_\_\_ = \_\_\_\_\_  
 \_\_\_\_\_ + \_\_\_\_\_ = \_\_\_\_\_

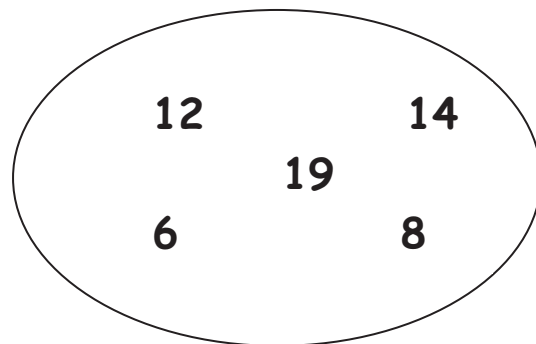
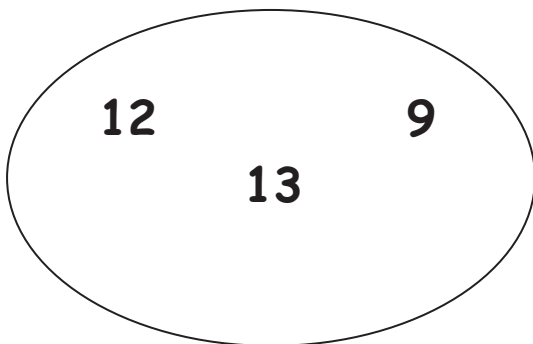


 - \_\_\_\_\_ = \_\_\_\_\_  
 \_\_\_\_\_ - \_\_\_\_\_ = \_\_\_\_\_



 - \_\_\_\_\_ = \_\_\_\_\_  
 \_\_\_\_\_ - \_\_\_\_\_ = \_\_\_\_\_



3. Größer oder Kleiner?

a) Bestimme die „größere“ Zahl.



b) Bestimme die „kleinere“ Zahl.

