







Ergänzen bis 10



Auf jeder Perlenschnur müssen immer 10 Perlen sein. Male die fehlenden Perlen dazu und schreibe die Rechnung!

	$5 + \square = 10$
	$\square + \square = \square$
	$\square + \square = \square$
	$\square + \square = \square$
	$\square + \square = \square$

	$\square + \square = \square$
	$\square + \square = \square$
	$\square + \square = \square$
	$\square + \square = \square$
	$\square + \square = \square$
	$\square + \square = \square$