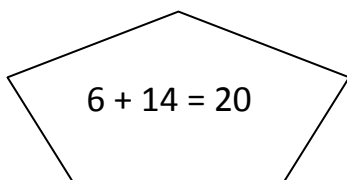
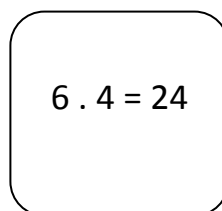
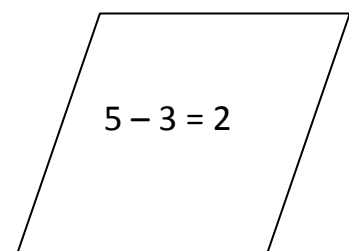


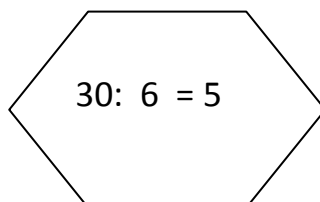
Verbinde jede Aufgabe mit der passenden Rechnung:

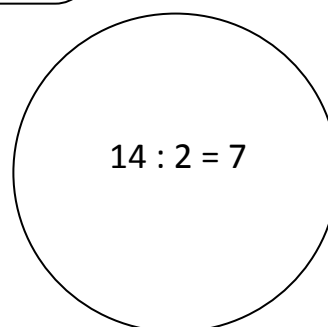
1. Herr Donald hat ein Tierheim, er hat 6 Pferde.
Er lässt alle mit Hufeisen beschlagen, wie viele Hufeisen muss er verwenden?
2. Herr Donald lässt 6 Pferde und 14 Kühe auf die Weide.
Wie viele Tiere stehen auf der Weide?
3. Herr Donald füttert 30 Handvoll Heu an 6 Pferde. Wie viele Handvoll Heu soll jedes bekommen?
4. Herr Donald zählt auch noch 14 Hühnerbeine. Wie viele Hühner hat er?
5. Es gibt auch noch 5 Hunde, 3 davon sind schwarz. Wie viele sind weiß?


$$6 + 14 = 20$$


$$6 \cdot 4 = 24$$


$$5 - 3 = 2$$


$$30 : 6 = 5$$


$$14 : 2 = 7$$