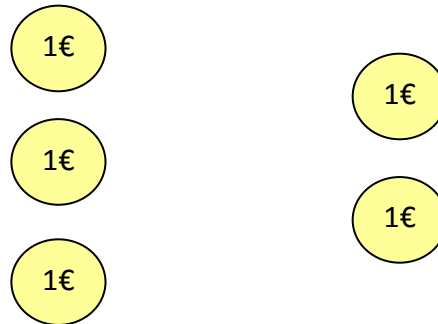


Rechengeschichte

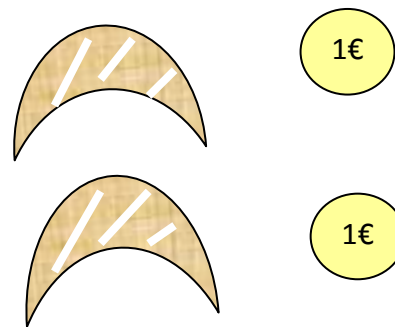
Vanessa und Renata wollen sich in der Konditorei etwas kaufen. Vanessa hat 3 € und Renata 2 €. Wie viel Euro haben sie zusammen?

Rechnung:



Vanessa sucht sich in der Konditorei 2 Kipferl aus. Ein Kipferl kostet 1€. Wie viel muss sie zahlen?

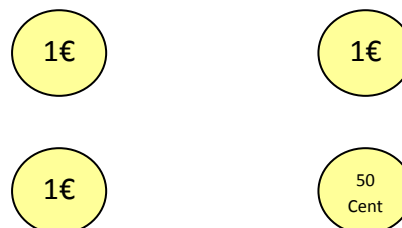
Rechnung:



Renata kauft ein Stück Torte. Es kostet 1 € 50 Cent. Sie bezahlt mit 2 €.

Wie viel bekommt sie zurück?

Rechnung:



Vielleicht kannst du sagen wie viel Geld jeder übrig hat?

