



Fische die fehlenden Fische aus dem Teich!


- Ich habe 7 Fische und möchte 12 Fische haben!
Wie viele Fische muss ich noch dazu nehmen?



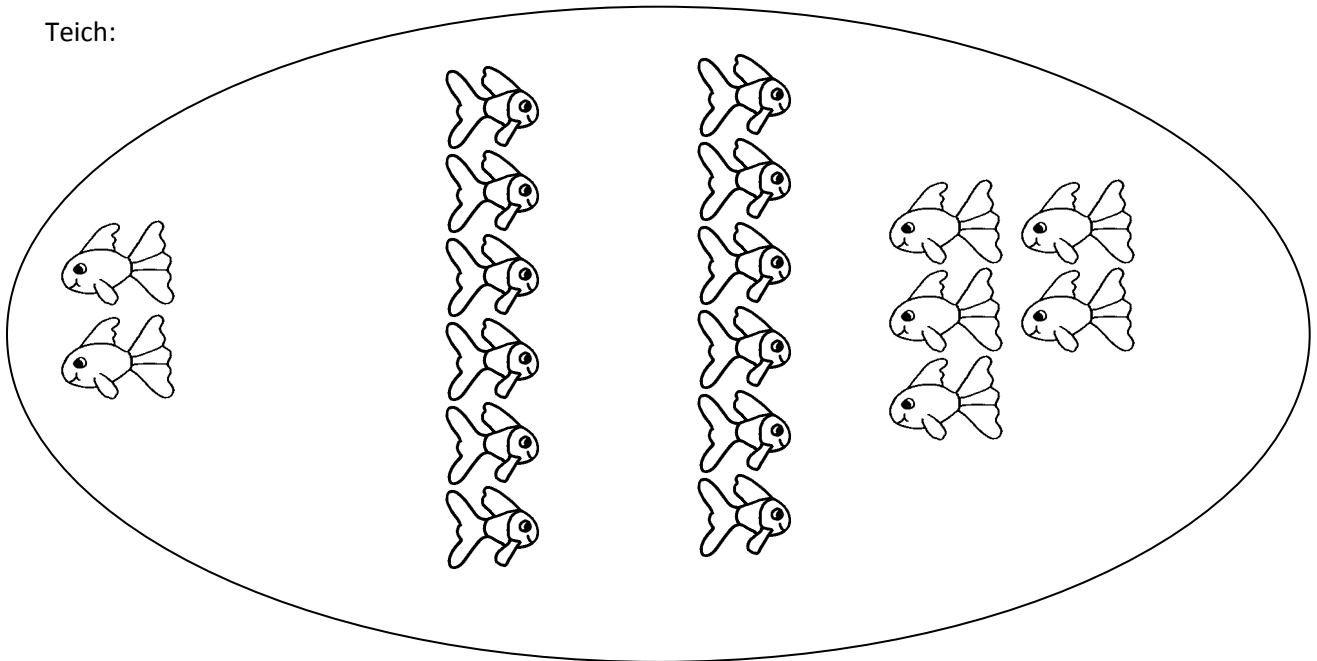
- Ich habe 5 Fische und möchte 11 Fische haben!
Wie viele Fische muss ich noch dazu nehmen?



- Ich habe 3 Fische und möchte 9 haben!
Wie viele Fische muss ich noch dazu nehmen?



Teich:



- Der Teich ist fast leer, es sind nur mehr 2 Fische übrig, SUPER!