



Wie viele Sterne zählst du?




Ich zähle _____ Sterne.

Wie viele Raute zählst du?



Ich zähle _____ Raute.

Wie viele Punkten zählst du?



Ich zähle _____ Punkten.

Wie viele Sterne zählst du?


Grupier die Sterne in Gruppen von 2.
Schreibe die Malaufgaben unten auf!



Ich zähle _____ = _____ Sterne.

Wie viele Raute zählst du?


Grupier die Sterne in Gruppen von 2.
Schreibe die Malaufgaben unten auf!



Ich zähle _____ = _____ Raute.

Wie viele Punkten zählst du?

Grupier die Sterne in Gruppen von 2.
Schreibe die Malaufgaben unten auf!



Ich zähle _____ = _____ Punkten.


Rückwärts Zählen

Jeder folgende Sterne hat, die Reihe nach, 1 Zahl weniger.




Welche Nummer hat die grüne Sterne? _____

Jeder folgende Raut hat, die Reihe nach, 1 Zahl weniger.



Welche Nummer hat die gelbe Raut? _____

Jeder folgender Punkt hat, die Reihe nach, 1 Zahl weniger.



Welche Nummer hat der brauner Punkt? _____