

1. Trage folgende Zahlen richtig in die Tabelle ein:


1436			
92		146	
T	H	Z	E

436			
5		1496	
T	H	Z	E


1205			
41		346	
T	H	Z	E

2. Ordne diese Zahlen der Größe nach. Fange mit der kleinsten Zahl an!


a) 676 - 767 - 576 - 176 - 474 - 667




b) 874 - 659 - 748 - 596 - 458 - 896




c) 652 - 562 - 256 - 567 - 265 - 625



d) 478 - 958 - 847 - 695 - 698 - 776



3. Wie geht es weiter? Setze die Reihe fort!



Arbeitsblatt 1

Ergänze bis 10! Schreibe die fehlende Zahl neben den Würfel!























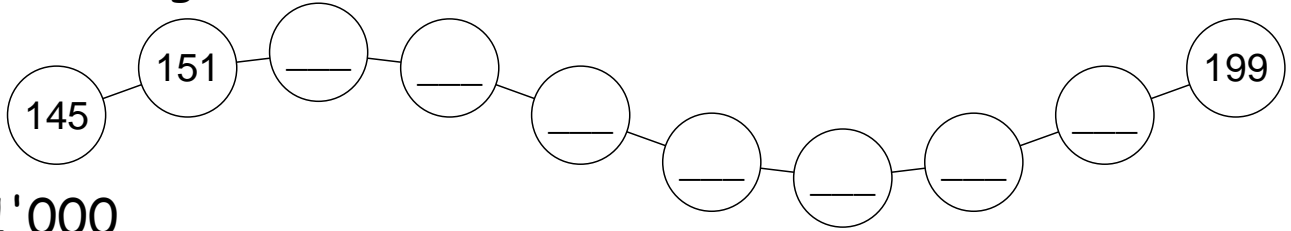
Trage die Zahlen 0, 1, 2, 2, 3, 4, 5, 6, 7 so in das Quadrat ein, dass du in jeder Spalte und Zeile die Summe 10 erhältst.



Im Tausender



Wie geht es weiter? Schreibe die fehlenden Zahlen in die Kugeln.



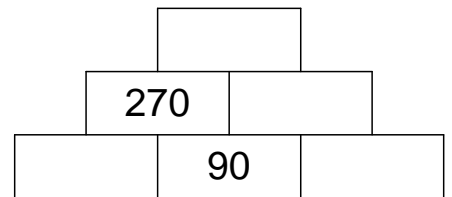
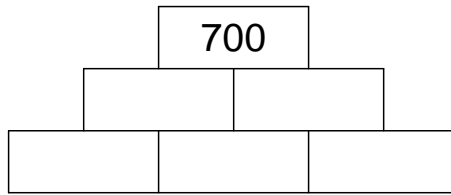
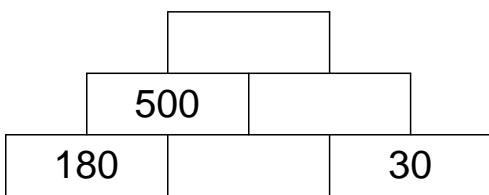
Immer 1'000

250	500	
	350	
		400

	220	540
460	400	

200		
		200

Zahlenmauern



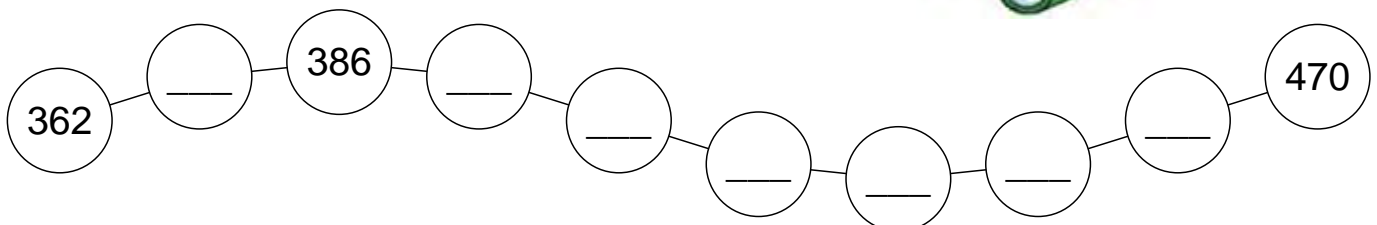
Zahlenhäuser

1'000	
500	
300	
150	

1'000	
670	
280	
440	

1'000	
720	
931	
225	


Zum Abschluss eine schwierige Kette!



Arbeitsblatt 7


Ergänzungsübungen

900




500	
510	
700	
720	
400	
450	
600	
630	

800




340	
450	
240	
120	
560	
770	
430	
750	

600



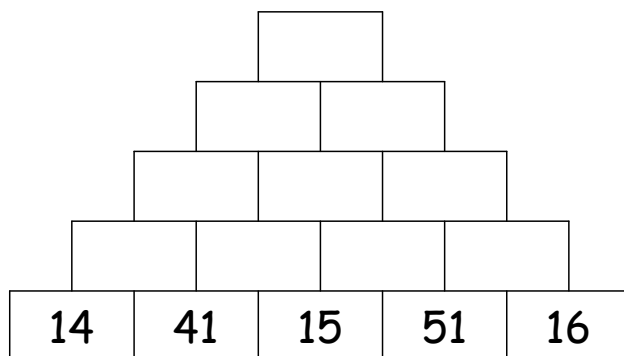
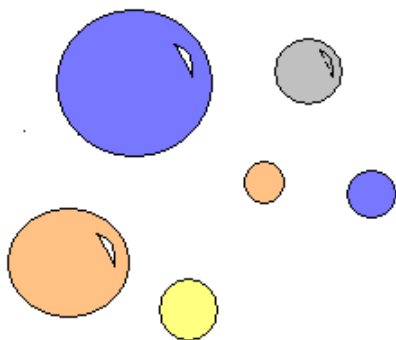
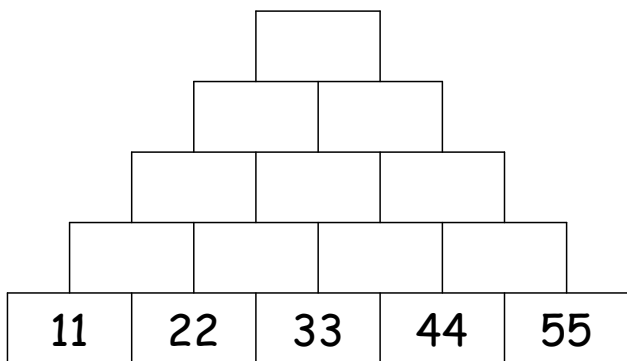
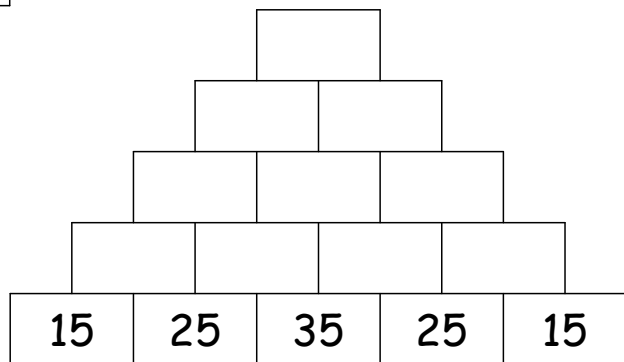
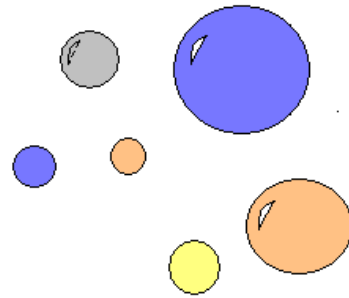
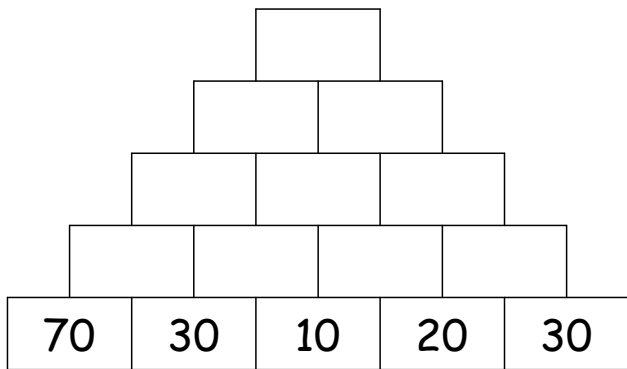
290	
560	
450	
230	
870	
760	
340	
130	

700



260	
370	
630	
450	
390	
650	
550	
440	

Addition bis 1000 - Bist du fit?



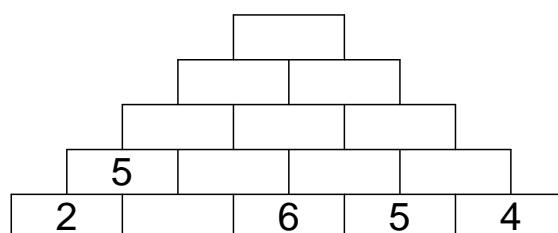
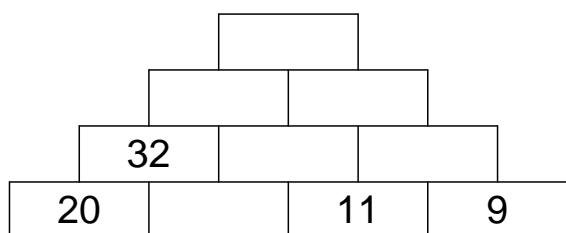
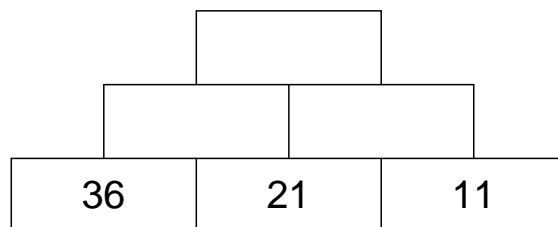
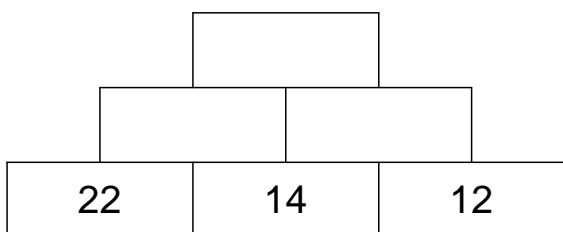
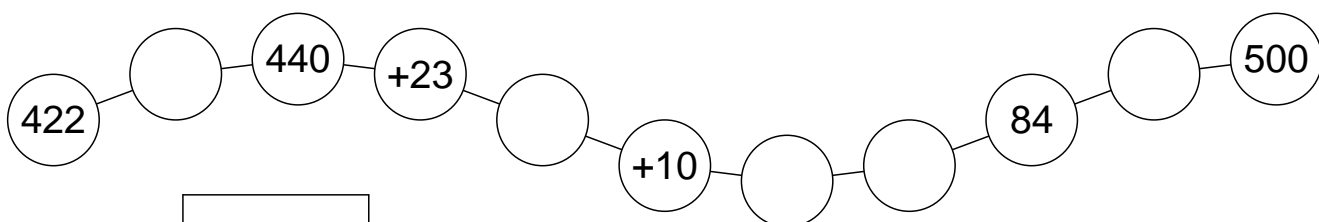
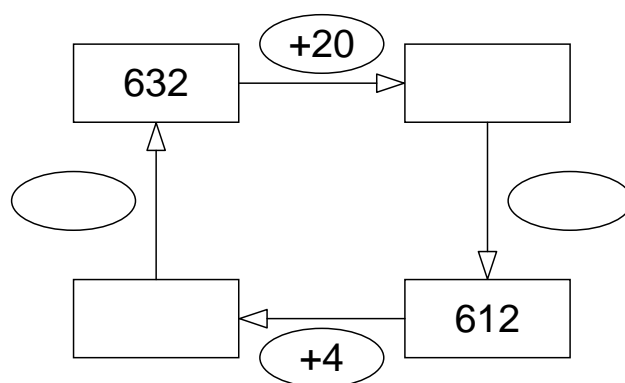
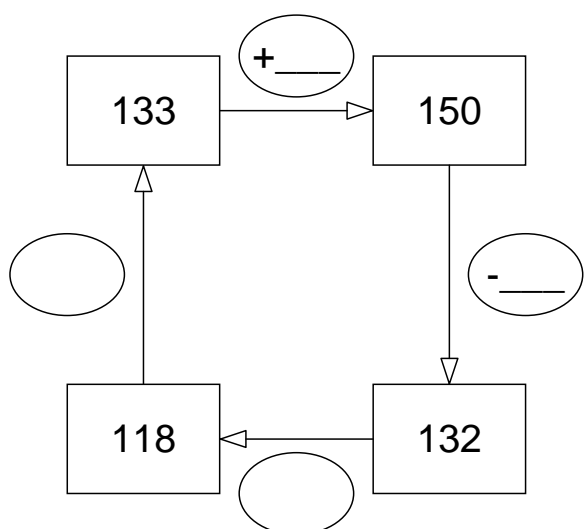
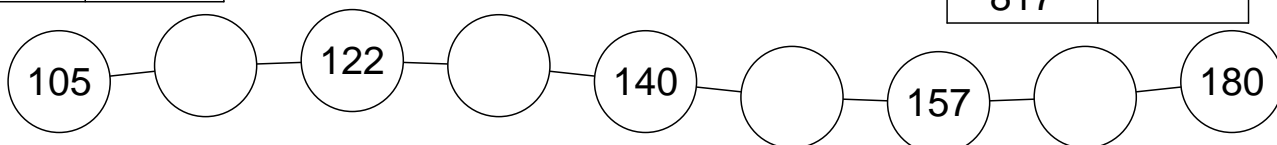
Arbeitsblatt 8

Kannst du das ?

50	
938	
941	
927	
917	
935	



70	
730	
727	
516	
530	
817	



Ergänzen



400	
380	
	200
190	
	230
365	



200	
100	
170	
	40
162	
	94

Wie viel musst du noch sparen bis du 1000€ hast?

$$450 \text{ €} + \underline{\hspace{2cm}} = 1000 \text{ €}$$

$$780 \text{ €} + \underline{\hspace{2cm}} = 1000 \text{ €}$$

$$222 \text{ €} + \underline{\hspace{2cm}} = 1000 \text{ €}$$



Pony - Aktion:

Dieses Pony bekommst du zum Aktionspreis von 870€. Du hast bereits 550€ gespart. Wie viel Geld brauchst du noch?

Ausflug in den Europa-Park:

Deine Familie will in den Europa-Park. Für alle zusammen kostet das 500 €. Wie viel Geld müsst ihr noch von der Bank besorgen?

