




Erstellt von Andrea Turek



1. Lege folgende Aufgaben mit dem Material!

$$9 - 4 =$$

$$8 - 3 =$$

$$10 - 0 =$$

$$19 - 5 =$$

$$16 - 0 =$$

$$13 - 2 =$$

2. Lege selbst Aufgaben und schreibe bzw. male sie auf ein Blatt!

3. Zerlege die Zahlen in jeweils zwei Teilmengen und bilde dann Minusaufgaben!

○	○	○	○	○
●	●	●	●	

○	○	○		
○	○	○		

○	○			
○	○			

○	○	○	○	○
○	○	○	○	○

○	○	○	○	○

○	○	○		
○				

4. Rechne folgende Aufgaben und male sie auf ein Blatt!

$$8 - 5 =$$

$$18 - 5 =$$

$$18 - 4 =$$

$$7 - 6 =$$

$$17 - 5 =$$

$$18 - 7 =$$

