













1. Welche Zahl ist hier dargestellt? Schreibe erst in die Tabelle, dann auf die Linie wie im Beispiel! ·=E I=Z □=H ■=T

 <input type="text"/> ZE <input type="text"/>	 <input type="text"/> ZE <input type="text"/>	 <input type="text"/> HZE <input type="text"/>
 <input type="text"/> ZE <input type="text"/>	 <input type="text"/> HZE <input type="text"/>	 <input type="text"/> HZE <input type="text"/>
 <input type="text"/> ZE <input type="text"/>	 <input type="text"/> THZE <input type="text"/>	 <input type="text"/> THZE <input type="text"/>
 <input type="text"/> ZE <input type="text"/>	 <input type="text"/> HZE <input type="text"/>	 <input type="text"/> THZE <input type="text"/>

2. Tausche die Zahlen ein! Nutze bei Bedarf das Material oder male die Aufgabe!

- a. 10 E =  Z      23 E =  Z  E      69 E =  E  Z  
10 Z =  H      34 Z =  H  Z      87 Z =  H  Z
- b. 1 H =  Z      53 =  Z  E      128 =  H  Z  E  
97 =  Z  E      704 =  H  Z  E      300 =  H  Z  E

3. Trage ein: > < =

5E	7E		2E	2E		1E	9E		1E	1Z
3Z	5E		1Z	5E		4Z	4Z		0E	0Z
9H	9Z		0H	7Z		5E	8H		3Z	3H
9H7Z	8H4Z		2Z6E	2Z6E		7H7Z4E	8H0Z7E			
4E6Z	7Z3E		5Z3H	9H0Z		1H3Z4E	9E7H3Z			

