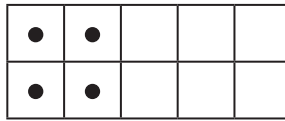
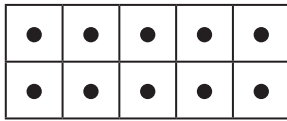
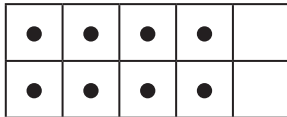
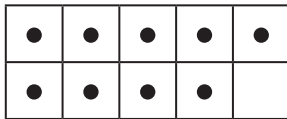


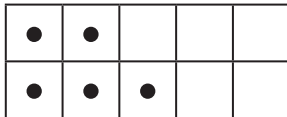
Arbeitsblatt

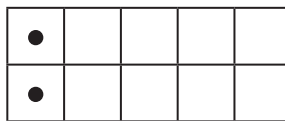
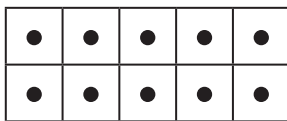
Schreibe zur bildlichen Zahlendarstellung die
dazugehörige Zahl:

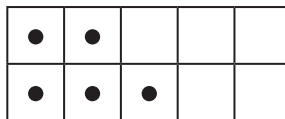
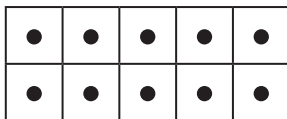


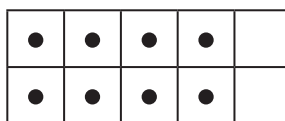
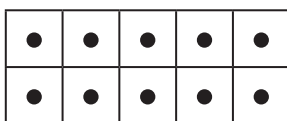


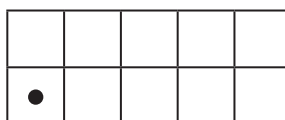
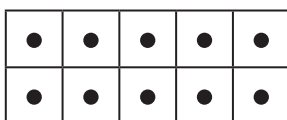


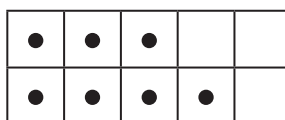
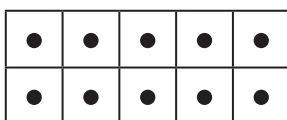


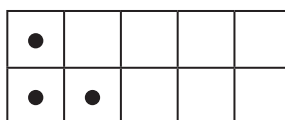
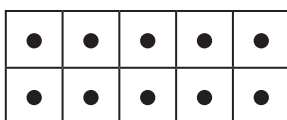












Arbeitsblatt

Verbinde die Zahl mit **ihrem Doppelten**:

•				
•				

•	•	•	•	
•	•	•	•	

•	•			
•	•			

•	•	•	•	•
•	•	•	•	•

•	•	•	•	
•	•	•		

•	•			
•	•			

•	•			
•				

•	•	•	•	•
•	•	•	•	•

•	•			
•	•			

•				

•	•	•	•	•
•	•	•	•	•

•				
•				

•	•	•	•	•
•	•	•	•	

•	•	•		
•	•	•		

•	•	•		
•	•			

•	•	•	•	•
•	•	•	•	•

•	•	•	•	
•	•	•	•	

•	•	•	•	
•	•	•	•	

•				
•				

•	•	•		
•	•	•		

•	•	•	•	•
•	•	•	•	•

•	•	•		
•	•	•		

Arbeitsblatt

Finde durch Durchstreichen zu einer gegebenen Zahl **die Hälfte**:

•	•	•	•	
•	•	•	•	

gegebene Zahl

die Hälfte

•	•	•	•	•
•	•	•	•	•

•				
•				

•				
•				

•	•	•	•	•
•	•	•	•	•

•	•	•	•	•
•	•	•	•	•

•	•	•		
•	•	•		

•	•	•		
•	•	•		

•	•	•	•	•
•	•	•	•	•

•	•	•	•	
•	•	•	•	

•	•	•	•	•
•	•	•	•	•

•	•			
•	•			

•	•			
•	•			
