


Jens sammelt Dino - Figuren und möchte noch 2 Modelle kaufen. Er hat 20 € gespart. Ein Modell kostet 12,30 €.  
Ein Modell hat er doppelt, sein Freund Max möchte es für 5 € kaufen. Reicht sein Geld für 2 Modelle?  
Welche Figur hat er doppelt?



159.-€



89.-€



215.-€



75.-€



15.-€


**Julia möchte ihr Zimmer neu einrichten. Sie hat 450.- € gespart.  
Oma und Opa geben noch 250.- € dazu.  
Sie braucht eine Regalwand, einen Schreibtischstuhl, einen  
Kleiderschrank, Vorhänge und einen Wecker.**

**Wenn das Geld reicht, möchte sie noch ein neues Handy kaufen.  
Es kostet 135.- €.  
Kann sich Julia das Handy noch kaufen?**



Anna hat sich mit ihren Freundinnen Laura und Lisa verabredet. Sie wollen mit ihren Puppen spielen. Anna hat 3 Puppen, Laura hat 4 Puppen und Lisa hat 2 Puppen.


Jedes Mädchen soll die gleiche Anzahl Puppen zum Spielen haben.



Annas Puppen



Lauras Puppen



Lisas Puppen