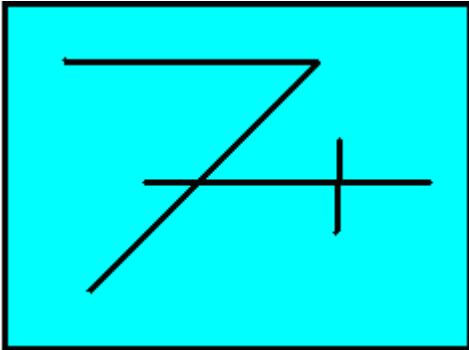




Schaue dir die Figuren genau an, es haben sich dort Zahlen versteckt.
Kannst du sie erkennen? Schreibe sie auf und bilde die Summe.



$$\square \quad \square \quad \square = \square$$



$$\square \quad \square \quad \square = \square$$



$$\square \quad \square \quad \square = \square$$

