



Simon staunt als er eine Woche bei seinen Großeltern verbringt. Oma und Opa müssen täglich mehrere Sorten Tabletten einnehmen. Opa muss jeden Tag morgens, mittags und abends 1 Tablette gegen seinen zu hohen Blutdruck einnehmen. Zusätzlich nimmt er jeden Mittag noch eine Tablette gegen seine Diabetes. Oma hat ein zu niedrigen Blutdruck sie muss zu den selben Zeiten eine halbe Tablette nehmen. Sie nimmt aber noch jeden Morgen eine Vitamin – Kapsel.

Wie viele Tabletten schluckt Opa in einer Woche?
 Wie viele Tabletten schluckt Oma in einer Woche?
 Wie viele Tabletten nehmen beide zusammen in einer Woche?

Du kannst unten den Plan zur Hilfe nehmen. Schreibe anschließend die Aufgabe als Multiplikationsaufgabe hin.




Opa

	MO	Die	Mi	Do	Fr	Sa	So
Morgends							
Mittags							
Abends							

Oma

	MO	Die	Mi	Do	Fr	Sa	So
Morgends							
Mittags							
Abends							



Ein Bauer hat 3 Hühner die heissen Paula, Antonia und Frieda.

Paula hat am Mo., Mi., Fr. und Sa. ein Ei gelegt.

Antonia hat Die., Mi., Sa., und So. jeweils 2 Eier gelegt.

Frieda hat jeden Tag ein Ei gelegt.


Wie viele Eier hat konnte der Bauer in einer Woche einsammeln?

Wie viele Eier hat er in zwei Wochen? Und In drei Wochen?

Du kannst unten den Plan zur Hilfe nehmen. Schreibe anschließend die Aufgabe als Multiplikationsaufgabe auf einen Zettel.



Paula

	MO	Die	Mi	Do	Fr	Sa	So
1. Woche							
2. Woche							
3. Woche							
Antonia							
	MO	Die	Mi	Do	Fr	Sa	So
1. Woche							
2. Woche							
3. Woche							



Frieda


	MO	Die	Mi	Do	Fr	Sa	So
1. Woche							
2. Woche							
3. Woche							



Peter schimpft, dass er zu viele Hausaufgaben auf hat. Er hat folgende Zeit dafür gebraucht. Montag 20 Minuten, Dienstag 10 Minuten, Mittwoch 35 Minuten, Donnerstag 60 Minuten und Freitag 15 Minuten. Wie lange hat Peter insgesamt dafür gebraucht. Rechne die Minuten in Stunden um, gebe die Zeiten dann in Stunden und Minuten an.

Susi lacht und meint, wir haben nicht so viel Hausaufgaben auf. Ich habe in dieser Woche jeden Tag eine halbe Stunde gebraucht.

Wer hat nun mehr auf? Rechne bei Susi genauso und vergleiche. Die Bilder darfst du anschließend ausmalen.



	MO	Die	Mi	Do	Fr	Gesamte Zeit
Peter						
Susi						