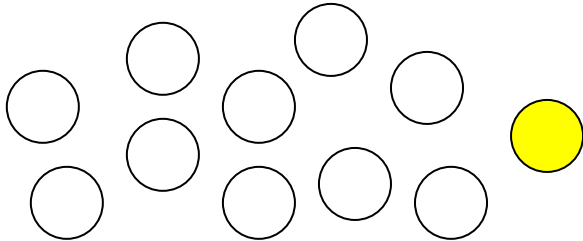


Zahlenraum bis 20

Wie viele Murmeln sind im Beutel?

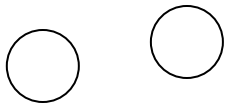
Du hast zehn weiße und eine gelbe Murmel in Deinem Beutel. Eine weiße Murmel hat den Wert 1. Die gelbe hat den Wert 10.



Wie hoch ist der Wert der Murmeln in Deinem Beutel?

Antwort:

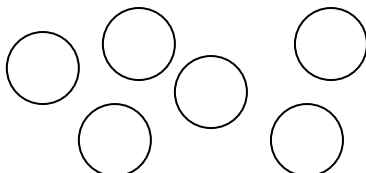
1. Alle Murmeln sind wieder in dem Beutel. Du nimmst 2 weiße Murmeln heraus.



Wie hoch ist der Wert der Murmeln in Deinem Beutel?

Antwort:

2. Die Murmeln sind alle wieder im Beutel. Du nimmst 6 weiße Murmeln heraus.

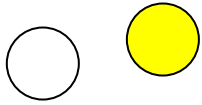


Wie hoch ist der Wert der Murmeln in Deinem Beutel?

Antwort:



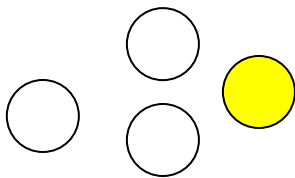
3. Der Beutel ist wieder voll. Jetzt nimmst Du eine weiße und die gelbe Murmel heraus.



Wie hoch ist der Wert der Murmeln in Deinem Beutel?

Antwort:

4. Aus dem vollen Beutel nimmst du jetzt vier weiße und die gelbe Murmel heraus.



Wie hoch ist der Wert der Murmeln in Deinem Beutel?

Antwort:

5. Zum Schluss nimmst Du aus dem vollen Beutel nur die gelbe Murmel heraus.



Wie hoch ist der Wert der Murmeln in Deinem Beutel?

Antwort:

