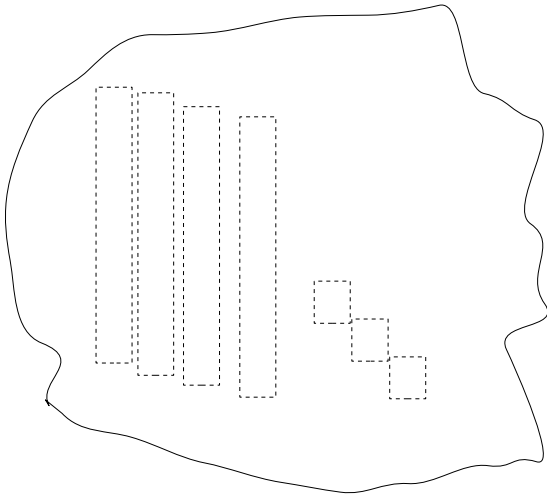


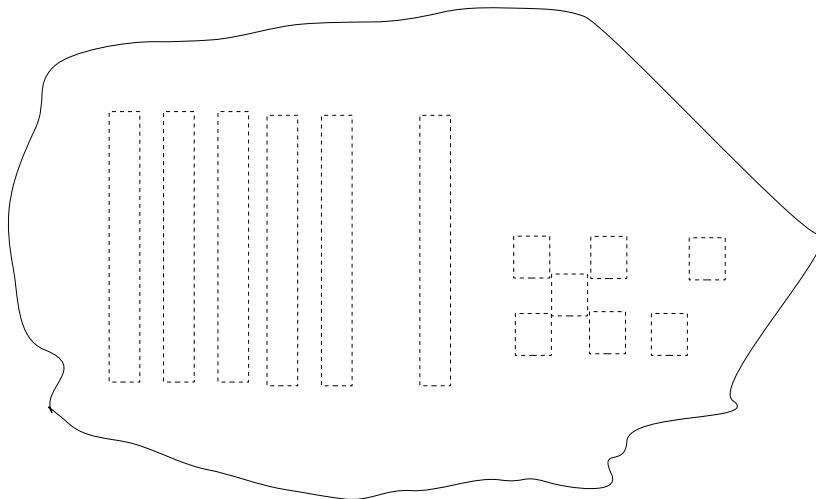
Rechnen im Zahlenraum 100



Über vier Zehnerstangen und drei Einerwürfel wird ein Tuch gelegt. Jetzt werden noch eine Zehnerstange und vier Einerwürfel unter das Tuch geschoben.

Wie heißt jetzt die Zahl?

Was muss nun noch unter das Tuch geschoben werden, damit die Zahl 70 dort liegt?

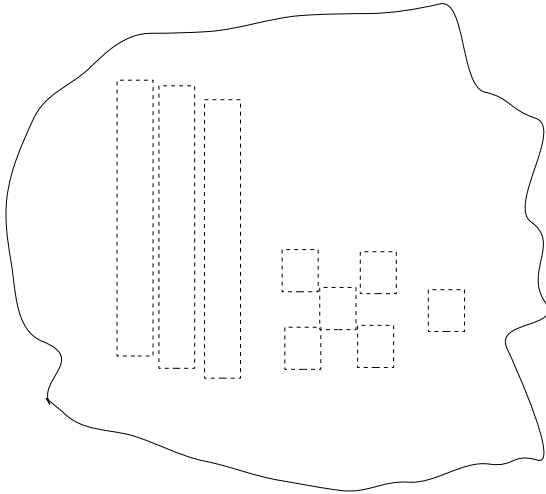


Unter dem Tuch liegen sechs Zehnerstangen und sieben Einerwürfel. Jetzt werden noch zwei Zehnerstangen und zwei Einerwürfel dazugelegt.

Wie heißt jetzt die Zahl?

Was muss nun noch unter das Tuch geschoben werden, damit dort die Zahl 100 liegt?

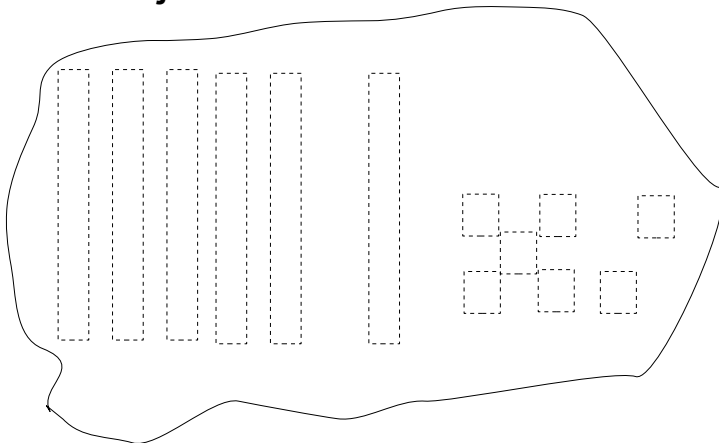
Rechnen im Zahlenraum 100 mit Übergang



Über drei Zehnerstangen und sechs Einerwürfel wird ein Tuch gelegt. Jetzt werden noch fünf Einerwürfel unter das Tuch geschoben.

Wie viele Zehnerstangen liegen unter dem Tuch, wenn zehn Einerwürfel in eine Zehnerstange umgetauscht werden?
.....

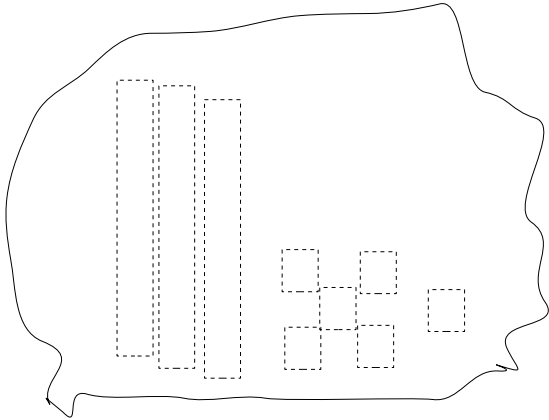
Weißt jetzt die Zahl?



Unter dem Tuch liegen sechs Zehnerstangen und sieben Einerwürfel. Jetzt werden noch fünf Einerwürfel dazugelegt. Wie viele Zehnerstangen liegen unter dem Tuch, wenn zehn Einerwürfel in eine Zehnerstange umgetauscht werden?
.....

Wie heißt jetzt die Zahl?

Rechnen im Zahlenraum 100 mit Übergang



Über drei Zehnerstangen und sechs Einerwürfel wird ein Tuch gelegt. Jetzt werden noch zwei Zehnerstangen und fünf Einerwürfel unter das Tuch geschoben.

Wie viele Zehnerstangen liegen unter dem Tuch, wenn zehn Einerwürfel in eine Zehnerstange umgetauscht werden?
.....

Weißt jetzt die Zahl?

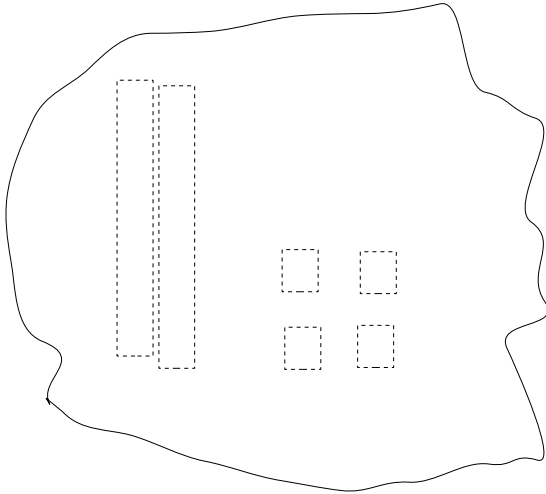


Unter dem Tuch liegen vier Zehnerstangen und sieben Einerwürfel. Jetzt werden noch drei Zehnerstangen und fünf Einerwürfel dazugelegt.

Wie viele Zehnerstangen liegen unter dem Tuch, wenn zehn Einerwürfel in eine Zehnerstange umgetauscht werden?
.....

Wie heißt jetzt die Zahl?

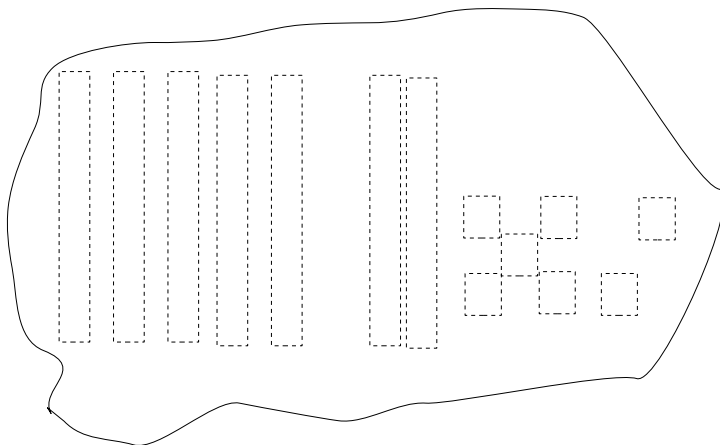
Rechnen im Zahlenraum 100



Über zwei Zehnerstangen und vier Einerwürfel wird ein Tuch gelegt. Jetzt werden noch zwei Zehnerstangen unter das Tuch geschoben. Welche Stelle verändert sich, die Zehner- die Einer- oder beide Stellen?

.....

Weißt jetzt die Zahl?



Unter dem Tuch liegen sieben Zehnerstangen und sieben Einerwürfel. Jetzt werden noch zwei Zehnerstangen dazugelegt. Welche Stelle verändert sich?

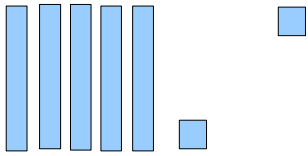
.....

Wie heißt jetzt die Zahl?

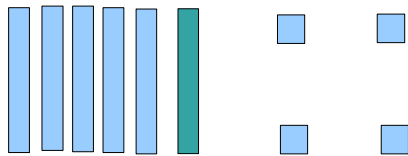
.....

Rechnen im Zahlenraum 100

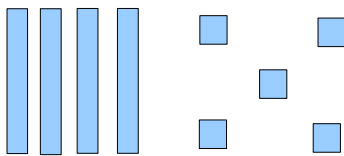
Ergänze die Mengen bis zur angegebenen Zahl! Zeichne zuerst die Mengenbilder, schreibe anschließend die Zahl!



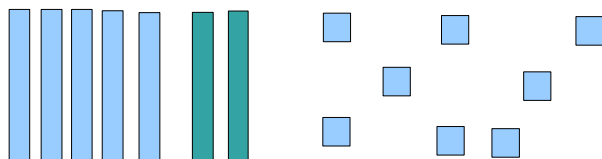
bis 60



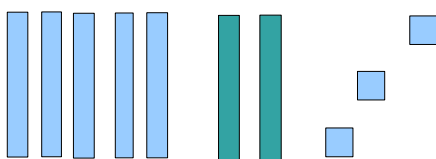
bis 70



bis 60



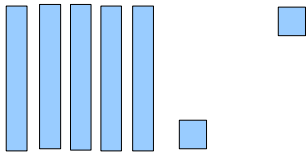
bis 80



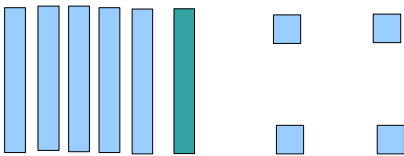
bis 90

Rechnen im Zahlenraum 100

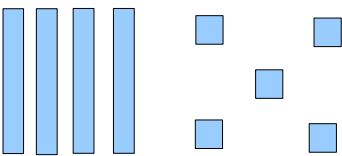
Ergänze die Mengen bis zur angegebenen Zahl! Zeichne zuerst die Mengenbilder, schreibe anschließend die Zahl!



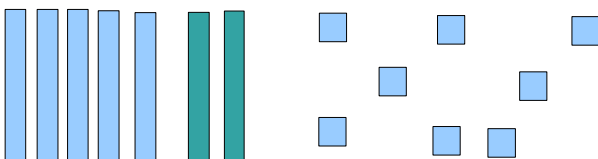
bis 65



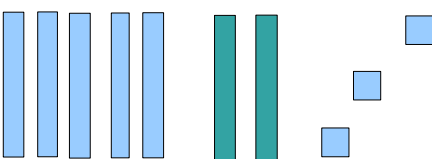
bis 72



bis 66



bis 88



bis 91

Rechnen im Zahlenraum 100

Ergänze die Mengen bis zur 100! Zeichne zuerst die Mengenbilder, schreibe anschließend die Zahl!

