











Mathematik / Grundrechenarten

Matheaufgaben für die 1. Klasse: Subtrahieren bis 10

Nutze die Bilder für die Subtraktion und streiche die richtige Anzahl durch:

- ①  
 $10 - 1 = 9$ $10 - 6 = \underline{\quad}$
- ②  
 $10 - 8 = \underline{\quad}$ $10 - 3 = \underline{\quad}$
- ③  
 $10 - 7 = \underline{\quad}$ $10 - 4 = \underline{\quad}$
- ④  
 $10 - 5 = \underline{\quad}$ $10 - 10 = \underline{\quad}$
- ⑤  
 $10 - 2 = \underline{\quad}$ $10 - 9 = \underline{\quad}$