


Übungen zum optischen Gedächtnis

Welche Bedeutung haben diese Schilder?

- 1** Fußgänger darf gehen
- 2** Fußgänger muss stehen bleiben
- 3** Fußgängerübergang
- 4** Campingplatz
- 5** glatte Fahrbahn



Ordne nach Tiere und Pflanzen und schreibe sie in die richtige Tabelle!
Dreh das Blatt um; Welche Tiere und Pflanzen hast du dir gemerkt?

Tiere

Pflanzen




Nelke



Gänseblümchen




Frosch



Löwenzahn



Ziege



Elefant





Löwe



Rose

Schreibe das Wort auf die gestrichelte Linie! (Die Anzahl der Linien entspricht der Anzahl der Buchstaben des Wortes.) Dreh das Blatt und; Welches Wort hat du dir gemerkt?



Schreibe die Anzahl in das freie, links unten eingezeichnete Feld! Dreh das Blatt um; Welche Symbole hast du dir gemerkt?

