

Schwierigere Rechnungen für die 3 Klasse

Otto war in der 1 Klasse 20 kg schwer. In der 2 Klasse wog er um 7 kg mehr. Wie schwer ist er nun?

R

A



Eine Ameise hat 6 Beine. Wie viele Beine haben 36 Ameisen? Von diesen 6 Ameisen hat eine Ameise nur noch 5 Beine. Wie viel Beine haben sie insgesamt?

R

A



Nimm die Zahl 5 neunmal, zähle 5 dazu, nimm die Hälfte des Ergebnisses und verdreifache es. Welche Zahl kommt heraus?

R

A



40 Hefte werden von 10 Schülern ausgeteilt. Wie viele Hefte kann jeder Schüler austeilen?

R

A



In einem Kübel stehen 30 Nelken. Immer 6 Nelken werden zu einem Strauß gebunden. Wie viel Sträuße kann Susanne binden?

R

A



Onkel Theodor kauft 6 Paar Socken um 5 Euro. In seinem Schrank hat er bereits 7 Paar Socken. Wie viele einzelne Socken hat er nun?

R

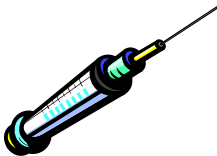
A



Silvana hat Schnupfen. Sie hat 5 Zehnerpackungen Papiertaschentücher und 5 Stofftaschentücher bis jetzt verbraucht. Wie viele Taschentücher sind das insgesamt?

R

A



Am Bauernhof zählte ich 32 Pferdefüße. Wie viele Pferde sind das?

R

A



Tante Frieda kauft 7 Paar Strümpfe. 1 Paar kostet 5,50 Euro. Wie viel muss sie zahlen?

R


A



Silvana besitzt 30 Murmeln. Ihr Bruder hat nur die Hälfte. Wie viel Murmeln hat er alleine?  
Wie viel Murmeln haben sie zusammen?

R


A



Susi hat schon 36 Seiten eines spannenden Buches gelesen. Sie hat noch die Hälfte zu lesen.  
Wie viel Seiten hat das ganze Buch?

R


A



Mama hat 25 Seiten gelesen. Das Buch hat doppelt so viele Seite. Wie viele Seiten muss  
Mama noch lesen?

R

A



Markus hat 33 Nüsse im Sack, er hat schon die Hälfte gegessen. Wie viel Nüsse hat er noch?

R

A



Tina hat 15 Gummibärle. Sie will noch das Dreifache von dem essen. Wie viel Gummibärli muss sie noch essen?

R

A



Lisa ist 40 km gegangen. Ihre Oma wohnt 52 km von ihr entfernt. Wie viele KM muss Tina noch gehen?

R

A



Eva will zur Freundin. Sie ist 30 m gegangen. Die Freundin wohnt doppelt so weit weg. Wie viel m muss Eva noch gehen?

R

A



Auf einem Baum sitzen 156 Vögel. Die Hälfte fliegt weg, dann kommen 45 dazu. Nachdem wiederum dreimal so viel dazu kommen, sitzen nun.....Vögel am Baum?

R


A



Die Zahl, die ich mir denke ist das Dreifache von 27. Wie heißt sie?

R


A



Die Zahl, die ich mir denke ist die Hälfte von 12. Wie heißt sie?

R

A



Regina rechnet 2 Rechnungen. Silvana rechnet viermal so viel? Wie viele Rechnungen sind das?

R


A



Toni rechnet 30 Rechnungen. Silvia nur die Hälfte. Wie viele Rechnungen sind das?

R

A



Mama backt einen Kuchen. Sie teilt ihn in 25 Stücke, jedes Kind soll 5 Stücke bekommen. Wie viele Kinder beschenkt sie?

R

A



Papa sortiert 30 Briefmarken. In jede Reihe im Album steckt er 10 Marken. Wie viele Reihen braucht er?

R

A



Mama arbeitet 40 Stunden in der Woche. Sie geht 5 Tage zur Arbeit. Wie viele Stunden arbeitet sie täglich?

R

A



Im Zuckerlglas sind 60 Bonbons. Sie sollen auf 10 Kinder verteilt werden. Wie viele Bonbons bekommt jedes Kind?

R

A

