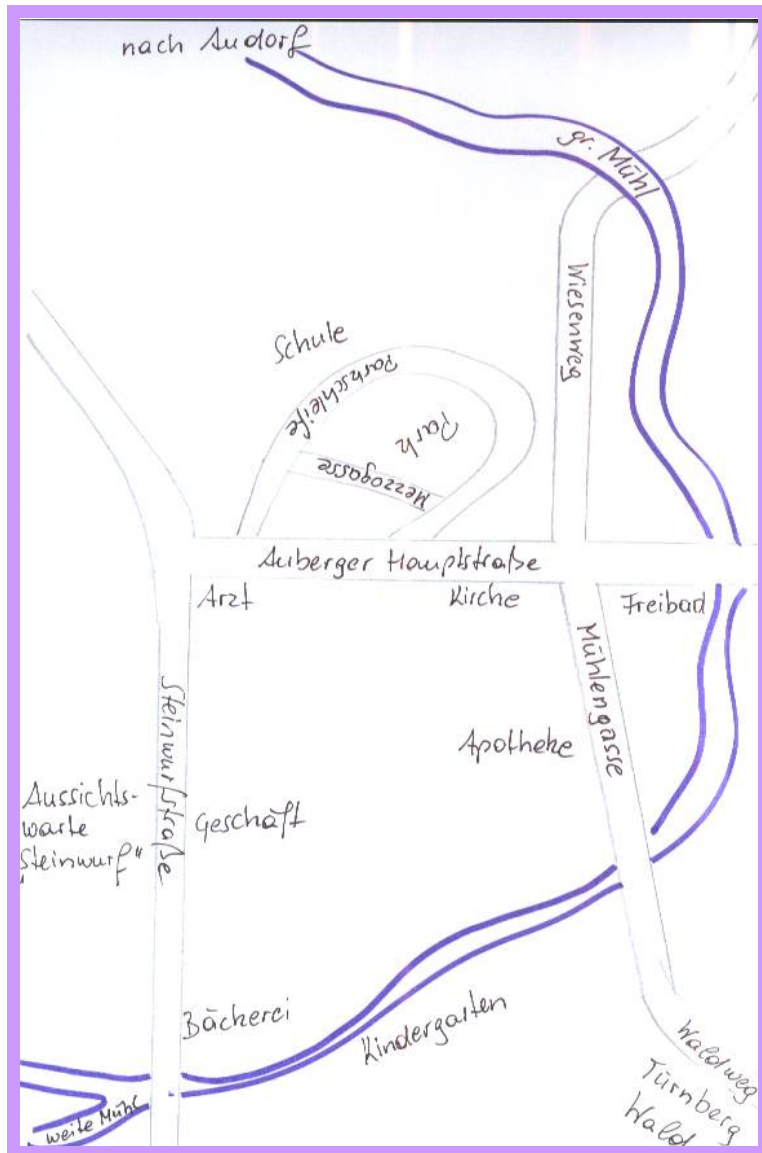
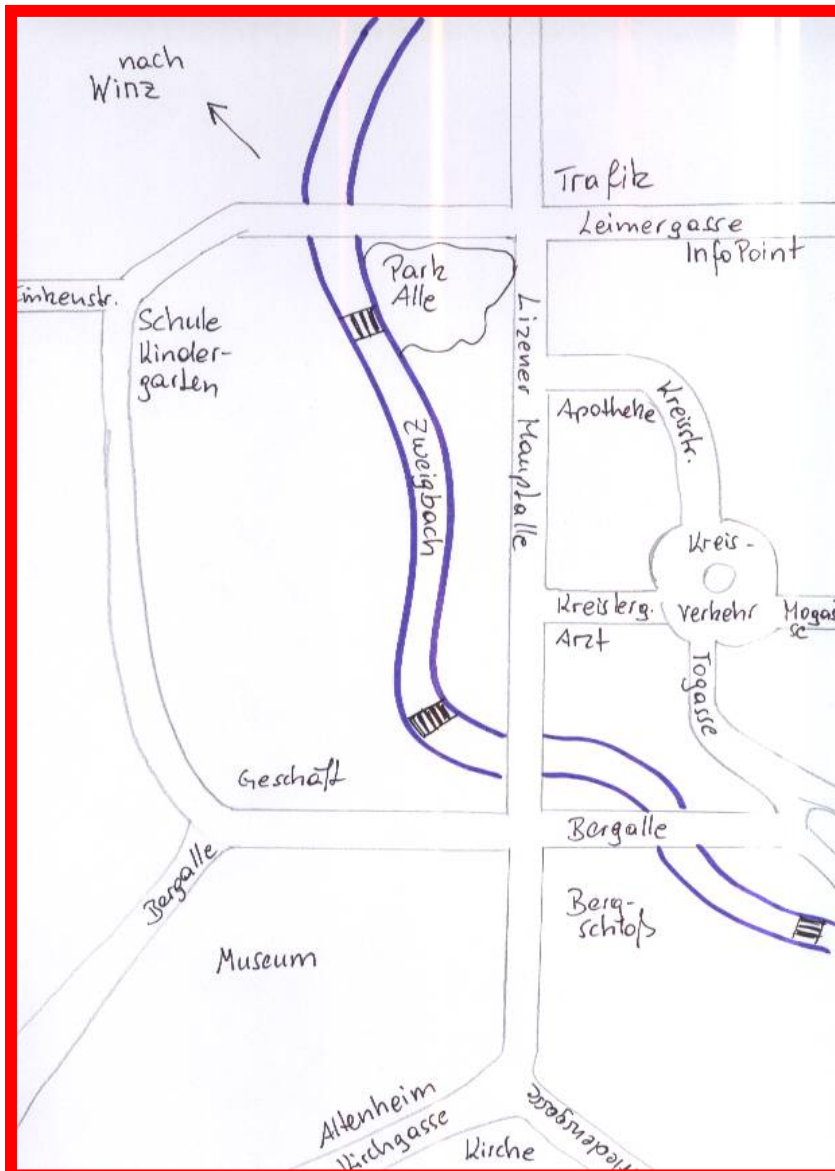


## Kennst du Audorf?



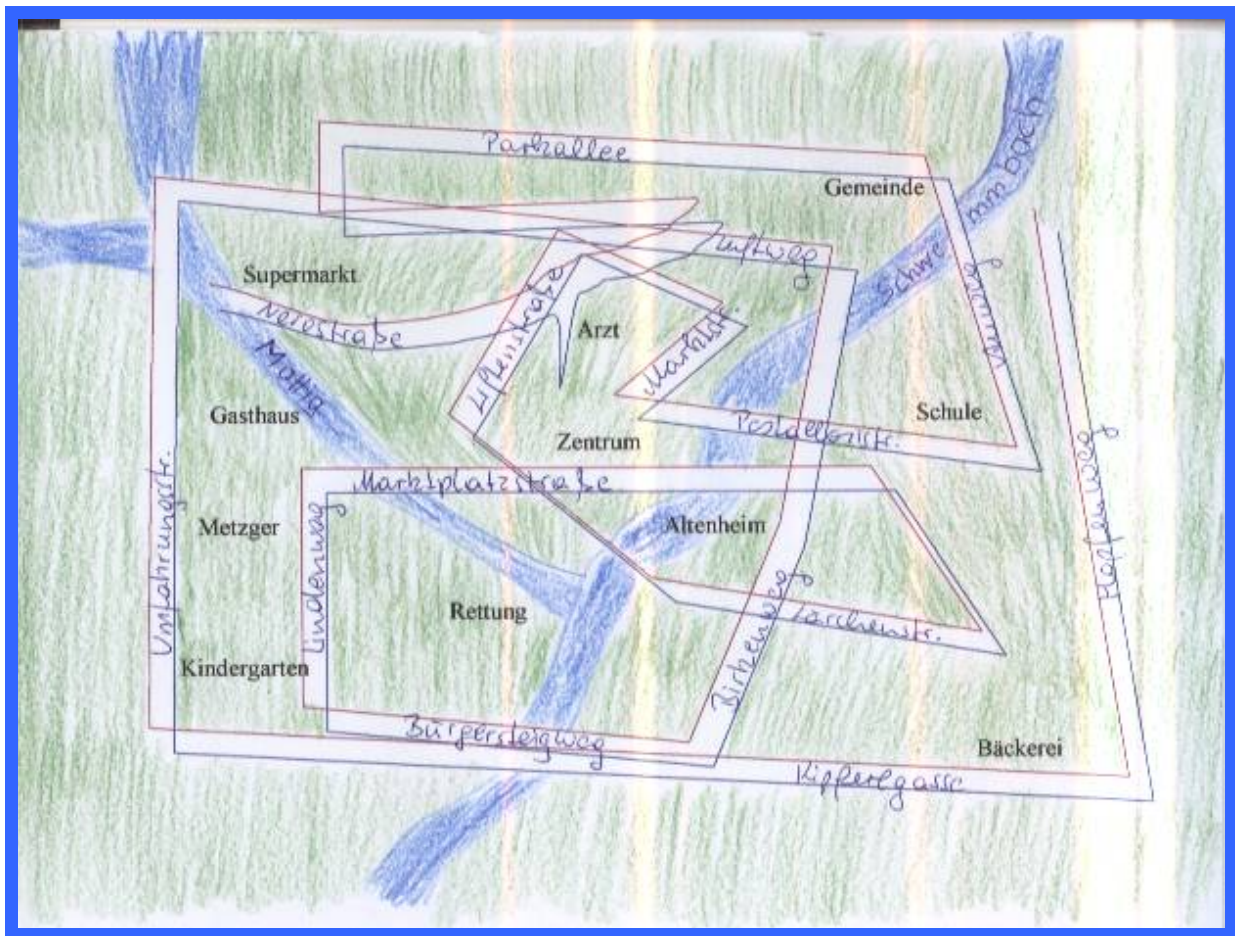
1. Der Park und die Schule liegen im oberen Drittel der Karte?
2. Zu welchem Ort fließt die obere Mühl?
3. In welche Gasse führt der Wiesenweg?
4. Das Freibad liegt auf der linken Seite der Karte?
5. Die Aussichtswarte „Steinwurf“ liegt auf der linken Seite der Steinwurfstraße?
6. Wie heißt die runde Straße and er Schule?
7. Der Waldweg führt in welchen Wald?
8. Die Apotheke liegt oberhalb der Kirche
9. Der Kindergarten liegt am Fluss?
10. In der Mitte der Karte liegt die Auberger Hauptstrasse?
11. Die Arztpraxis ist rechts unten auf der Karte zu finden?
12. Die Mezzogasse liegt an welcher Schleife?

## Kennst du Winz?



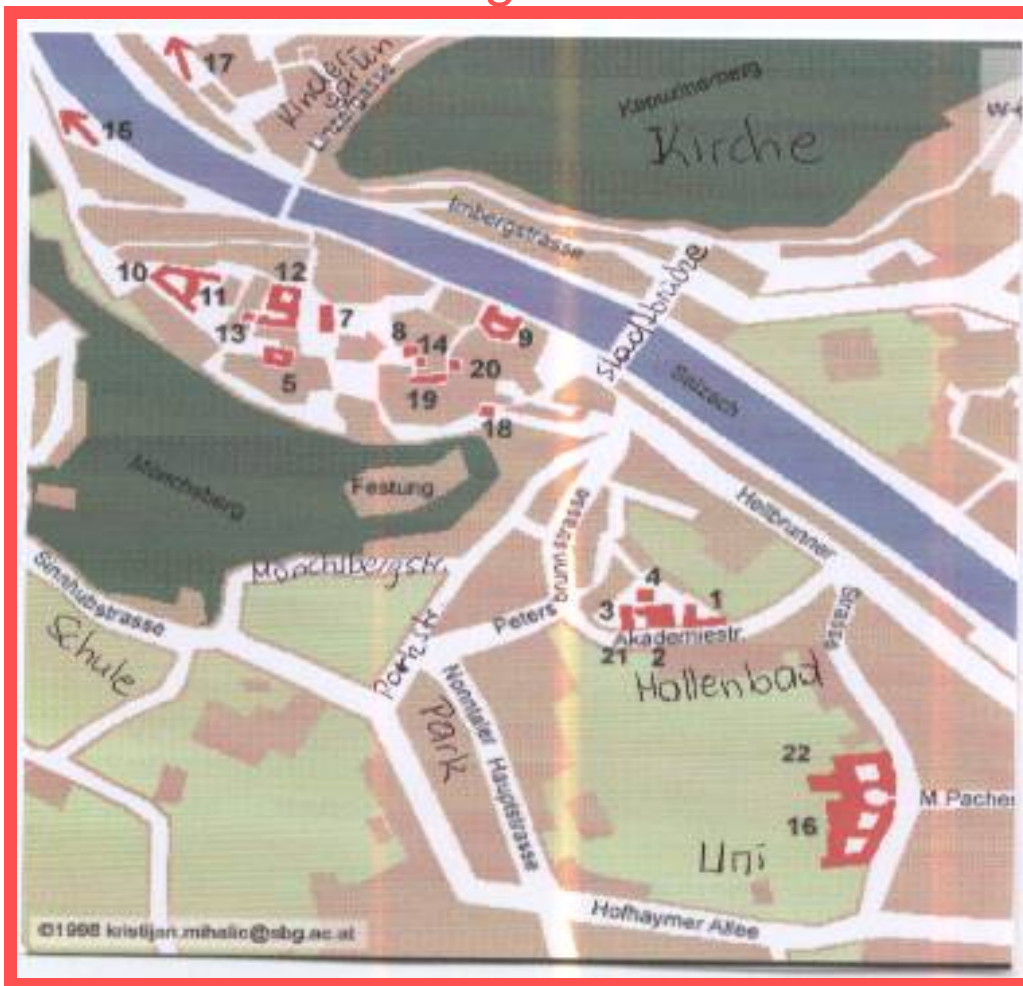
1. Wie viele Brücken gehen über den Fluss?
2. Wie heißt der Fluss?
3. Welche zwei Straßen führen zur Kirche?
4. Die Straße am Bergschloss heißt Bergallee, stimmt dies?
5. Die Arztpraxis liegt in der Nähe des Kreisverkehrs? Stimmt dies?
6. Schule und Kindergarten befinden sich bei der Finkenstraße? Stimmt dies?
7. Die Parkallee liegt unten rechts beim Bergschloss. Stimmt dies?
8. Der Infopoint liegt im oberen Drittel der Karte auf der rechten Seite. Stimmt dies?
9. Links der Leimergasse findest du die Trafik? Stimmt dies?
10. Das Museum liegt gegenüber dem Bergschloss. Stimmt dies?
11. Die Lizener Hauptstraße führt über den Fluss. stimmt dies?

## Kennst du Mattigthal?



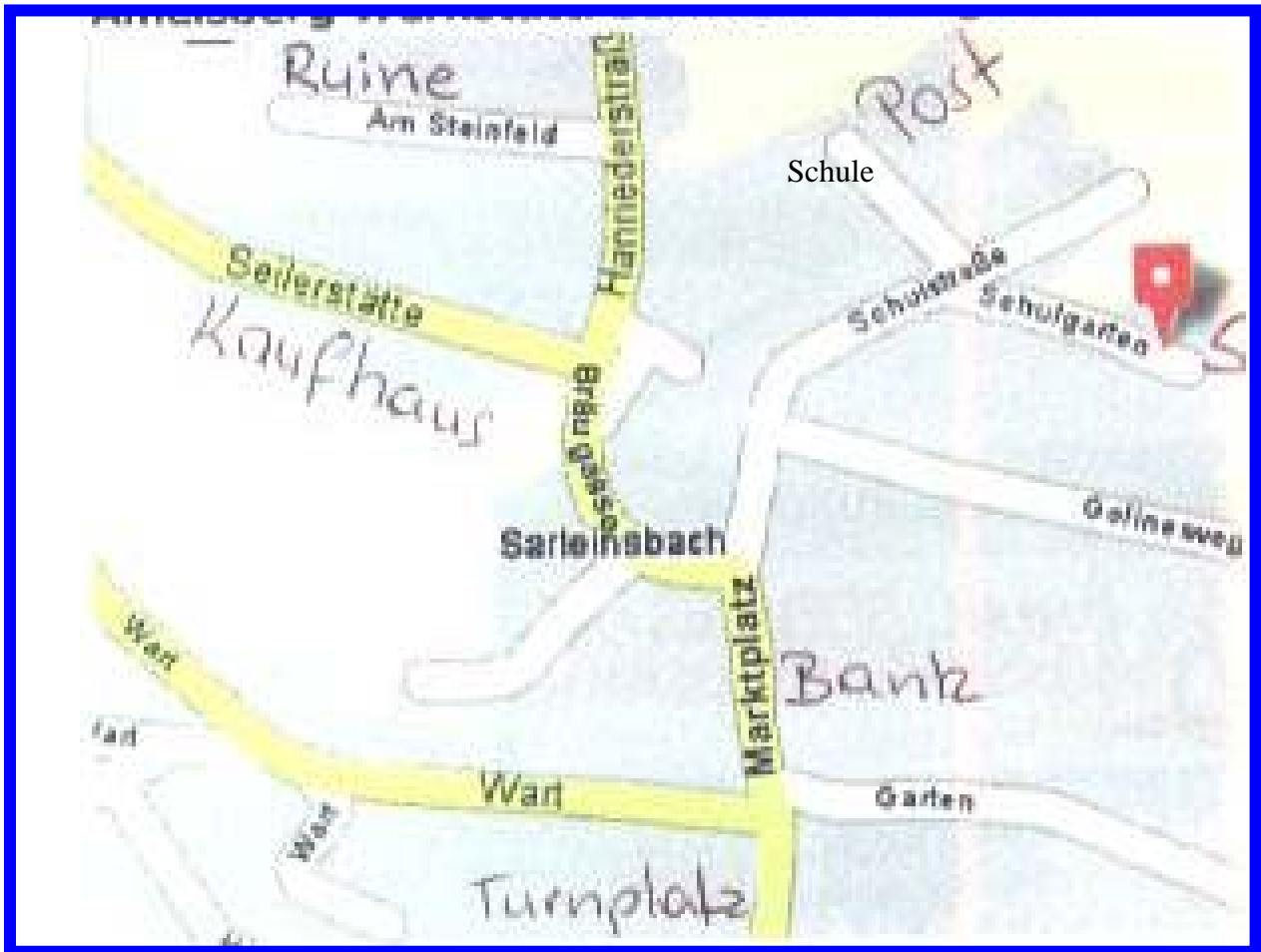
1. Wo kreuzen sich die beiden Flüsse? Im oberen oder unteren Drittel der Zeichnung?
2. Wie heißt die Straße, in der die Bäckerei steht?
3. Befindet sich die Parkallee unten oder oben im Bild?
4. An welchem Fluss liegt das Altenheim?
5. Liegen der Supermarkt und das Gasthaus am gleichen Fluss?
6. Zwischen welchen zwei Straßen liegt die Arztpraxis?
7. Liegt die Schule am Auweg?
8. Welche Gebäude liegen entlang der Umfahrungsstraße?
9. Zwischen der Umfahrung und dem Lindenweg liegt welche Institution?
10. Die Schule liegt zwischen zwei Straßen. Benenne Sie?

# Kennst du Salzburg?



1. Wie heißt die Straße, in der die Uni steht?
2. Das Hallenbad liegt zwischen welchen beiden Straßen?
3. Wie heißt der Fluss, der durch Salzburg fließt?
4. Welche Straßen finden wir am Mönchsberg?
5. Welche Brücke führt über die Salzach?
6. Auf welchem Berg steht die Kirche?
7. Der Park liegt an der Nonntaler Hauptstraße. Stimmt das?
8. Welches Gebäude liegt an der Sinnhuberstraße?
9. Links neben dem Kapuzinerberg liegt die Linzerstraße. Ist das so?
10. Die Festung liegt in der Nähe der Stadtbrücke. Stimmt das?
11. Den Kindergarten finde ich in der Linzerstraße?
12. Die Akademiestraße führt in die Hellbrunnerstraße. Stimmt das?
13. Die Festung liegt rechts neben der Salzach?
14. Der Mönchsberg liegt links neben der Salzach?
15. Der Kapuzinerberg liegt rechts neben der Salzach und links neben dem Kindergarten?

## Ortsdetektive: Kennst du Sarleinsbach?

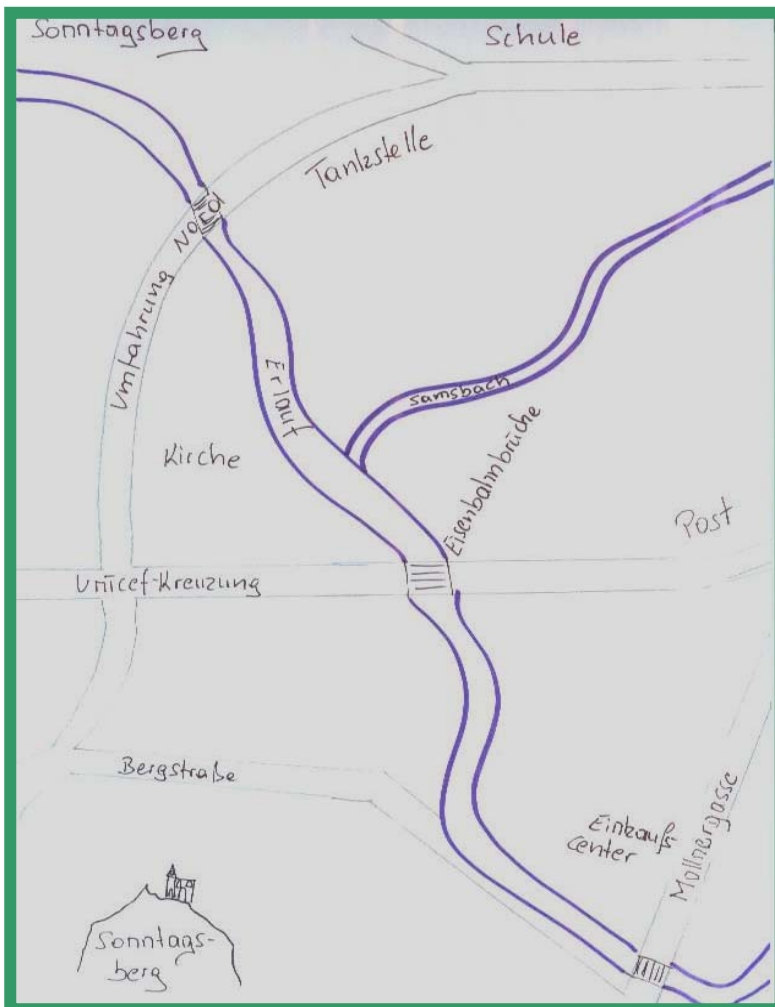


1. Wie heißt die Straße, in der das Kaufhaus steht?
2. Der Turnplatz liegt an welcher Straße?
3. Welche zwei Straßen münden zur Schule?
4. Wenn du die Hanniederstraße links abbiegst und zur Ruine kommen willst, auf welcher Straße befindest du dich dann?
5. In der Seilerstätte liegt welches Gebäude?
6. Du willst Geld von der Bank abheben. In welcher Straße findest du die Bank?
7. Liegt die Post auf der linken oder rechten Seite des Ortes?
8. Die Ruine befindet sich im oberen oder unteren Ortsteil?
9. Der Turnplatz und das Kaufhaus liegen auf derselben Straße, stimmt dies?
10. Die Bräu-gasse mündet in die Hanniederstraße. Stimmt dies?



### Kennst du das Pölsenztal

1. Das Jugendhaus befindet sich oben oder unten?
2. Das Jugendhaus liegt an welcher Straße?
3. Sie heißt die Straße ganz unten links?
4. In welchen Ort führt die Umfahrungsstraße?
5. Welches öffentliche Gebäude befindet sich im Pölsenztal?
6. Die Straße and er Burg heißt?
7. Der Bäcker und das Gasthaus befinden sich in welcher Straße?
8. Das Gasthaus befindet sich in der oberen oder unteren Weinberggasse?
9. Die Umfahrung liegt auf der linken oder rechten Seite des Planes?
10. Die Burg liegt links unten? Stimmt dies?
11. Die Post befindet sich im oberen Drittel auf der rechten Seite. Stimmt dies?
12. Die Schule befindet sich im oberen Drittel auf der linken Seite. Stimmt dies?
13. Ein Fluss durchquert den Plan von links nach rechts. Stimmt dies?
14. Die Autobahn führt von Norden nach Süden. Stimmt dies?
15. Es ist kein Freibad eingezeichnet. Stimmt dies?
16. Das Gymnasium liegt rechts neben der Burg. Stimmt dies?



## Kennst du den Sonntagsberg?

1. Die Tankstelle befindet sich an der Umfahrung?
2. Wie heißt die Gasse auf der unteren Seite der Karte, die über den Fluss führt?
3. Die Post befindet sich auf der linken Kartenseite?
4. Zwischen der Umfahrung Nord und dem Fluss befindet sich die Kirche?
5. Wie heißt die Kreuzung links auf der Karte?
6. Auf den Sonntagsberg führt die Talstraße?
7. Das Einkaufcenter ist im oberen Drittel der Karte und liegt an der Mollnergasse?
8. Die Mollnergasse liegt rechts neben dem Einkaufscenter?
9. Wie heißen die beiden Flüsse?
10. Welche drei Häuser liegen auf der Umfahrung?
11. Auf dem Sonntagsberg befindet sich eine verlassene Ruine?
12. Wie viele Brücken liegen am Fluss?
13. Umfahrung Süd befindet sich auf der rechten Seite der Karte?