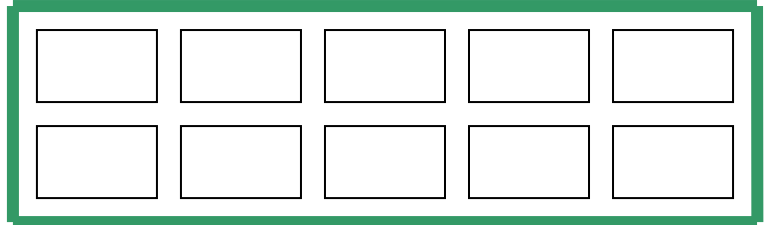





Name: \_\_\_\_\_

# Bei der Obsternte

Kisten stapeln – auf jede Palette 10



Skizze der Paletten - Wie viele Kisten sind es?



### Zehnerzahlen bis 100

Name: \_\_\_\_\_

Nun werden jeweils 10 Kisten – Stapel in eine Reihe gestapelt:  
Ermittle die Anzahl der Kisten und schreibe sie auf

